



Projeto de Pesquisa:
Ensino Exploratório de Matemática na Educação Básica
Financiamento:
Conselho Nacional de Desenvolvimento Científico e
Tecnológico - CNPq



PLANO DE AULA – TAREFA RODA GIGANTE

1. Identificação

Nome:

Local:

Data:

Duração: 4 aulas de 50 minutos

Unidade Temática: Geometrias

Objetos de conhecimento: Estudo analítico da circunferência.

Conteúdo: Definição de circunferência, equação da circunferência, posição relativa de um ponto a circunferência.

Ano de Escolaridade: 3ª série do Ensino Médio

2. Objetivos

- Compreender que uma circunferência é o lugar geométrico dos pontos de um plano que estão a uma mesma distância de um ponto denominado centro da circunferência.
- Identificar, compreender e determinar o centro e o raio de uma circunferência a partir de sua equação reduzida.
- Reconhecer e representar algebricamente a equação da circunferência.
- Identificar as posições relativas entre ponto e circunferência.

3. Recursos Didáticos

Tarefa impressa, lápis, caneta, caderno para anotações, computador com software GeoGebra 5.0 instalado, quadro, projetor multimídia.

4. Desenvolvimento da Aula

A aula será desenvolvida na perspectiva do Ensino Exploratório de Matemática (EEM), com uma abordagem centrada no aluno, diferente da abordagem tradicional, nesse caso o professor assume um papel exigente e importante na promoção da aprendizagem do aluno, focalizado



Projeto de Pesquisa:
Ensino Exploratório de Matemática na Educação Básica
Financiamento:
Conselho Nacional de Desenvolvimento Científico e
Tecnológico - CNPq



no trabalho autônomo, investigativo, colaborativo e reflexivo dos alunos, geralmente organizada em fases que orientam as ações do professor, sendo:

- 1 - Proposição e apresentação da tarefa;
- 2 - Desenvolvimento da tarefa;
- 3 - Discussão coletiva da tarefa;
- 4 – Sistematização das aprendizagens matemáticas.

4.1. Proposição da Tarefa (20 minutos)


A aula deverá ser iniciada com os alunos no laboratório de informática com o professor informando que esta acontecerá em duplas ou trios (essa organização dependerá do número de alunos presentes na aula, as turmas são constituídas em média por 32 alunos), será realizada a entrega da tarefa, seguida da sua leitura que poderá ser realizada voluntariamente por um aluno, posteriormente questionado aos alunos se existem termos desconhecidos por eles no enunciado para esclarecimento. Após esse momento é explicado aos alunos para registrarem de forma cuidadosa todo raciocínio utilizado durante a resolução da tarefa, pois alguns grupos serão escolhidos pelo professor e farão a socialização dos seus resultados no momento de discussão com toda a turma, sendo que serão fotografadas as resoluções e projetadas, com auxílio do projetor multimídia. Será esclarecido que o tempo para o trabalho em grupo será de 60 minutos, sendo iniciado o desenvolvimento da tarefa.


4.2. Desenvolvimento da Tarefa: trabalho nos grupos (60 minutos)


A perspectiva do EEM prevê no planejamento do professor a realização de um quadro de orientação para possíveis ações de alunos, que conduzirão ações do professor antecipando decisões durante o desenvolvimento da tarefa. Para isso, o professor deve após elaborar, resolver a tarefa, e assim, elencar questionamentos que poderão surgir durante o trabalho dos alunos. O quadro a seguir orientará as possíveis ações de alunos e professor.


Tarefa: Roda gigante


1) Abra o Geogebra e, seguindo o roteiro, construa a simulação:

- No GeoGebra selecione a ferramenta  segmento de reta, adicione o segmento na malha com coordenadas A (10,6) e B (5,6).


Com a ferramenta  controle deslizante, criar um controle a:
 Controle “a” mínimo 0° máximo 360°, incremento 1° definição ângulo. Na animação, indicar velocidade crescente.


- Selecione a ferramenta  ângulo de amplitude fixa, clique nos pontos do segmento B e A que abrirá uma caixa de diálogo; substitua o valor do ângulo por “a” do controle deslizante e confirme a alteração. Movimento o controle deslizante e observe o que acontece.


- Utilizando a ferramenta  círculo dados centro e um de seus pontos, insira uma circunferência onde o centro coincida com o ponto A e o raio com o ponto B'. Utilize a função animar no controle deslizante e observe.

- Para criar os aros (raios) da roda gigante utilize a  ferramenta ângulo com amplitude fixa, clique em B' e depois em A, que abrirá uma caixa de diálogo e utilize o ângulo de 45°. Repetir o procedimento com os novos pontos B'', B''' até que a circunferência esteja dividida totalmente.

- Oculte o segmento AB e seu ponto B. Com o botão direito do mouse clique sobre o segmento e desmarque a função exibir objeto. Realize o mesmo procedimento para o ponto B.

- Com a ferramenta  segmento, inserir segmentos entre o centro da circunferência e cada um dos pontos que se encontram sobre a circunferência. Oculte os rótulos dos segmentos.

- Com a ferramenta  polígono, inserir um triângulo com coordenadas E (10,6) F (6, -6), G (14,-6), oculte os seus pontos e rótulos.

- Com a ferramenta  polígono semi deformável selecionada, inserir pentágonos que serão as cadeirinhas da roda gigante. Para inserir cada pentágono utilize o ponto já marcado sobre a circunferência como um dos seus vértices, insira os oito pentágonos; após a construção, desmarque exibir rótulo dos pontos e segmentos dos pentágonos.

- Por último, é possível editar as cores da roda gigante e espessura das linhas, clicando com o botão direito do mouse nos objetos. Após suas edições, anime o controle deslizante e observe a simulação.

- Agora você pode ocultar a exibição dos eixos, malha e a janela de álgebra para melhor visualizar seu projeto. Clique com o botão direito do mouse sobre a tela e desmarque a opção eixos e malha. No menu exibir desmarque a janela de álgebra.

- Animar a simulação e observar o resultado.

- Salvar a simulação na área de trabalho do computador com o nome: roda gigante_ (com os nomes dos componentes da dupla).

Ações de alunos	Ações de professores
Não entendem o roteiro.	Pede que realizem novamente a leitura.
Têm dificuldade em manipular as ferramentas no GeoGebra.	Realizar o reconhecimento da interface, mostrando os comandos e ferramentas com auxílio do projetor.
Questionam se é necessário utilizar a sugestão de coordenadas para os pontos A e B.	Explica que não é necessário, mas que ao indicar outras coordenadas deverão estar atentos à continuidade da simulação, e que estas poderão ser alteradas a qualquer momento de acordo com a necessidade observada pelo



Projeto de Pesquisa:
Ensino Exploratório de Matemática na Educação Básica
 Financiamento:
 Conselho Nacional de Desenvolvimento Científico e
 Tecnológico - CNPq



	grupo.
Questionam a utilização da letra a para representar o controle deslizante.	Explica que poderão representar com qualquer letra, porém alerta para que estejam atentos na sequência do roteiro.
Questionam a utilização dos valores de máximo e mínimo, ângulo e velocidade crescente no controle deslizante.	Esclarece que no decorrer da simulação, esses valores influenciarão o desenvolvimento, estimula que na sequência movimentem o controle e alterem os parâmetros observando o que acontece.
Questionam a necessidade ao utilizar a ferramenta ângulo de amplitude fixa da indicação de clicar em B e depois em A, e não ao contrário.	Incentiva que realizem a investigação clicando em A e depois em B e testem também conforme a orientação do roteiro e movimentem o controle deslizante para observar o que acontece.
Perguntam porque alterar o ângulo de 45° para o controle deslizante “a”.	Incentiva que observem o que acontece quando o ângulo indicado tem 45°, e quando se utiliza o controle deslizante “a”.
Questionam porque utilizar o ângulo de medida 45° para dividir a circunferência.	Incentiva os alunos que testem diferentes medidas de ângulos e observem o que ocorre na divisão da circunferência, ao aumentar ou diminuir a medida dos ângulos. Pede que pensem em rodas gigantes reais e instiga a pensarem de que forma essa divisão influencia quando a roda está em movimento.
Questionam a necessidade de ocultar o segmento AB.	Instiga que observem a sequência do roteiro, pois serão inseridos novos segmentos.
Questionam a possibilidade de inserir os segmentos de um extremo a outro da circunferência (diâmetro), ao invés de traçar os segmentos do ponto ao centro.	Incentiva que realizem a investigação, observando a resposta do software na janela de álgebra anotando suas descobertas
Questionam se é possível utilizar, a ferramenta segmento, ao invés da ferramenta polígono, para traçar o triângulo.	Sugere que utilizem os dois comandos, mas instiga a pensarem se será possível colorir a região interna do triângulo nos dois casos.
Questionam a possibilidade de utilizar, as demais ferramentas polígono ao invés de polígono deformável.	Sugere que utilizem as demais ferramentas para inserir o pentágono e animem o controle deslizante observando o que acontece em cada caso.
Questionam se é possível utilizar outros polígonos ao invés do pentágono.	Incentiva que realizem testes com os demais polígonos, animando o controle deslizante e observem a roda gigante. Ainda sugere que pensem na estética do projeto e na roda gigante real.
Tem dificuldade para ocultar os rótulos diretamente no projeto.	Orienta que observem os objetos na janela de álgebra, incentivando que realizem o ocultar rótulos utilizando essa janela.
Apresentam dificuldade para realizar as alterações no projeto, cores e espessuras.	Estimula os alunos a realizar as alterações observando em propriedades dos objetos a cor e estilo. Para cada alteração realizada sugere que visualizem no projeto o resultado e incentiva que realizem diferentes edições.

2) Na janela de álgebra, podemos observar a equação $c: (x - 10)^2 + (y - 6)^2 = 25$. Qual relação se pode observar da equação com o ponto A e o segmento AB. Com o auxílio da simulação da roda gigante? Registre suas conclusões.

Ações de alunos	Ações de professores
Tem dificuldades em visualizar o ponto A e o	Incentiva que habilitem o rótulo do ponto A e exibir



segmento AB.	objeto para o segmento AB.
Não conseguem perceber a relação das coordenadas do ponto A com a equação.	Instiga que observem na janela de álgebra a equação e procurem atentamente a relação da coordenada do ponto A.
Não conseguem perceber a relação do segmento AB com a equação.	Orienta que observem a medida do segmento AB, e instiga pensarem nos valores disponíveis na equação.
Verificam a possibilidade de utilizar o teorema de Pitágoras para comprovar a relação entre ponto A, segmento AB e equação.	Incentiva que realizem suas investigações e registrem seus achados.
Reconhecem as coordenadas de A na equação, e segmento AB^2 na equação.	Pede que realizem a anotação de suas conclusões.

3) Se os pontos A e B fossem alterados o que aconteceria com a equação? Com o auxílio da simulação da roda-gigante, exemplifique com duas novas coordenadas para cada ponto e registre suas conclusões.

Ações de alunos	Ações de professores
Tem dificuldade para inserir novos pontos e a circunferência	Incentiva que retornem ao roteiro e observem de que maneira foram inseridos esses pontos e a circunferência.
Inserem novos pontos utilizando a ferramenta círculo dados centro e um de seus pontos, mas não observam a relação com a equação.	Pede que observem na janela de álgebra a resposta do software para cada circunferência plotada.
Observam as relações das coordenadas dos pontos que deram origem as circunferências e sua equações	Orienta que registrem suas conclusões.

Durante o desenvolvimento da tarefa, ao monitorar os alunos, o professor irá selecionar alguns grupos que irão contribuir com a discussão coletiva da tarefa, as resoluções escolhidas para serem compartilhadas certas ou erradas, deverão apoiar a sistematização das aprendizagens.

4.3 Discussão coletiva da tarefa (50 minutos)

Nesse momento ocorrerá a socialização das resoluções intencionalmente escolhidas pelo professor, o qual instigará a participação de todos os integrantes do grupo na apresentação, explicando o raciocínio utilizado e também será solicitado que os grupos utilizem a simulação construída para auxiliar sua explanação.

O sequenciamento das apresentações acontecerá por resoluções menos formais para resoluções de forma mais sistematizada que possam contribuir com a sistematização das aprendizagens. Na questão 1 por exemplo, poderão ser escolhidos três grupos, sendo escolhido um grupo que teve dificuldade ao construir a simulação, relatando suas dificuldades, um grupo que tenha construído sem maiores dificuldades, mas que não tenha



Projeto de Pesquisa:
Ensino Exploratório de Matemática na Educação Básica
Financiamento:
Conselho Nacional de Desenvolvimento Científico e
Tecnológico - CNPq



realizado a edição da simulação e um terceiro que não tenha encontrado dificuldades e tenha realizado a edição da simulação para que possa compartilhar com os demais grupos o caminho percorrido no software.

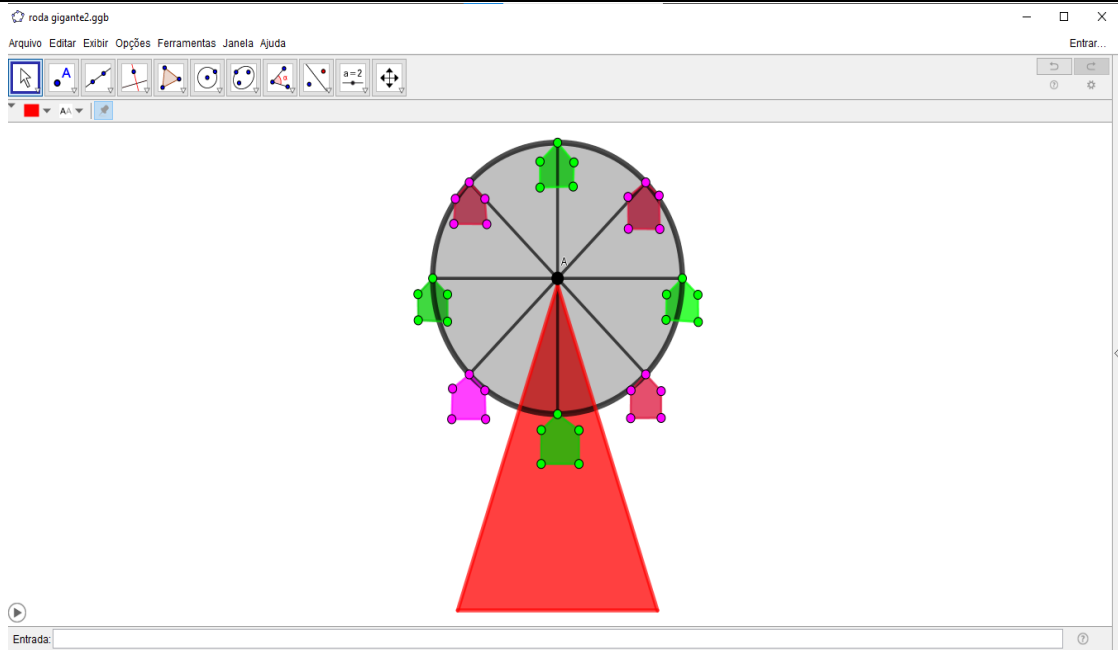
Na questão 2 um grupo que tenha encontrado dificuldade em relacionar o ponto A e o segmento AB com a equação da circunferência na janela de álgebra, outro grupo que registrou suas conclusões indicando as coordenadas do ponto A, segmento AB mas que não tenha observado a relação na equação da circunferência, e um terceiro que relacione o centro coordenada A, o raio como segmento AB e as posições que ocupam na equação da circunferência e o que isso pode interferir nessa equação.

Para questão 3, também três grupos, sendo um que tenha registrado coordenadas para o ponto A e B sem perceber a relação com a equação da circunferência, um que tenha registrado as coordenadas, registrado as novas equações mas tenha dificuldade em explicar o que ocorre, e um terceiro grupo que tenha compreendido que dependendo das coordenadas de A e B teremos diferentes raios e conseqüentemente valores distintos na equação da circunferência e o que isso implica quando é alterado.

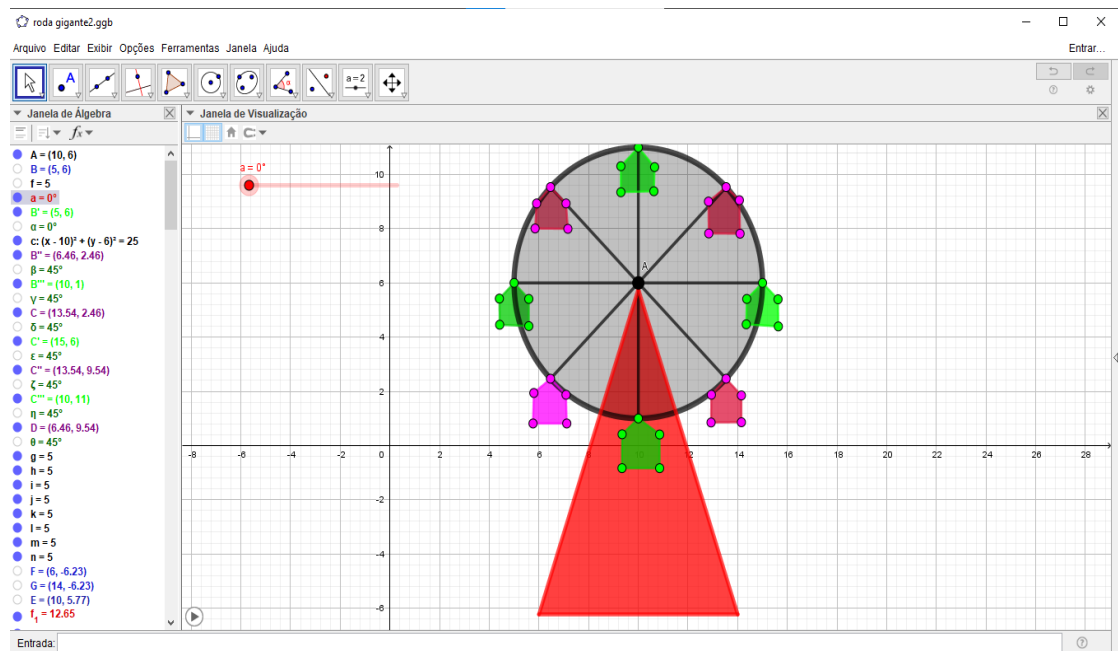
4.4 Sistematização das aprendizagens matemáticas (50 minutos)

Na sistematização, o professor retoma as resoluções para então com a participação dos alunos, passar a registrar as ideias na lousa e pede que realizem as anotações nos cadernos.

Para sistematização na questão 1, o professor vai projetar a simulação com auxílio de um aluno para animar com apenas a roda gigante na tela do GeoGebra, ouvindo os alunos em relação as facilidades e dificuldades proporcionadas pela simulação.

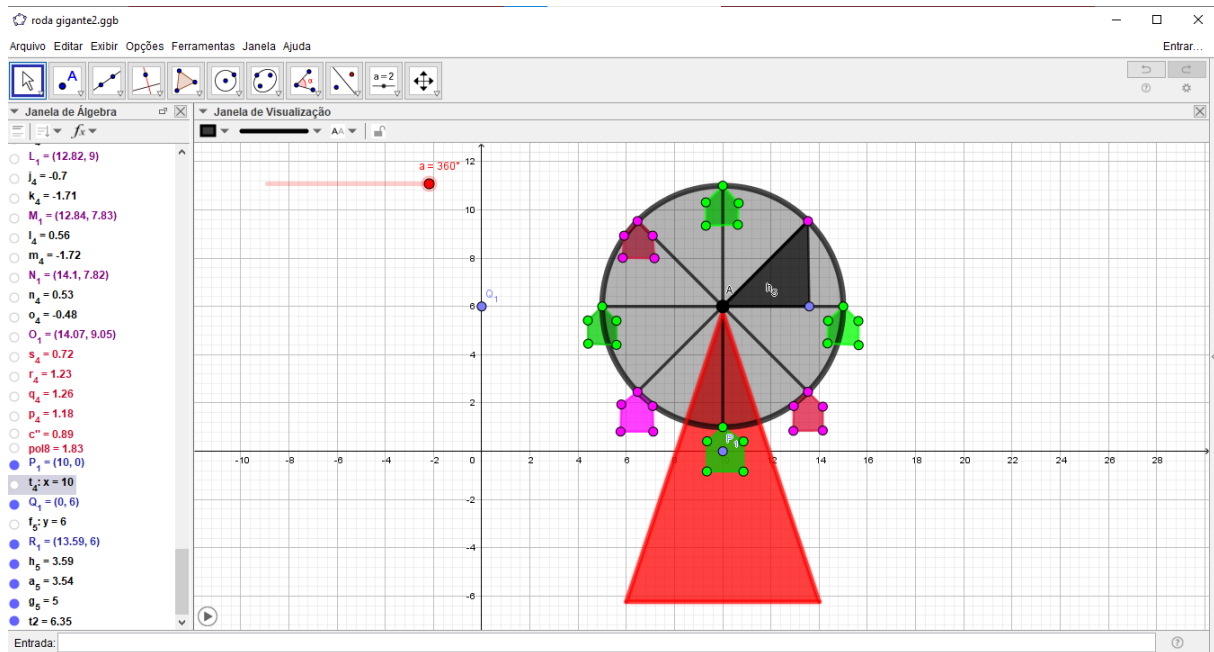


Após a visualização, serão habilitados eixos, malha e janela de álgebra para discussão evidenciando na simulação a definição de circunferência, distância entre raio e centro, e posições relativas de um ponto a circunferência.



2) Na questão 2, o professor deverá identificar a equação reduzida da circunferência

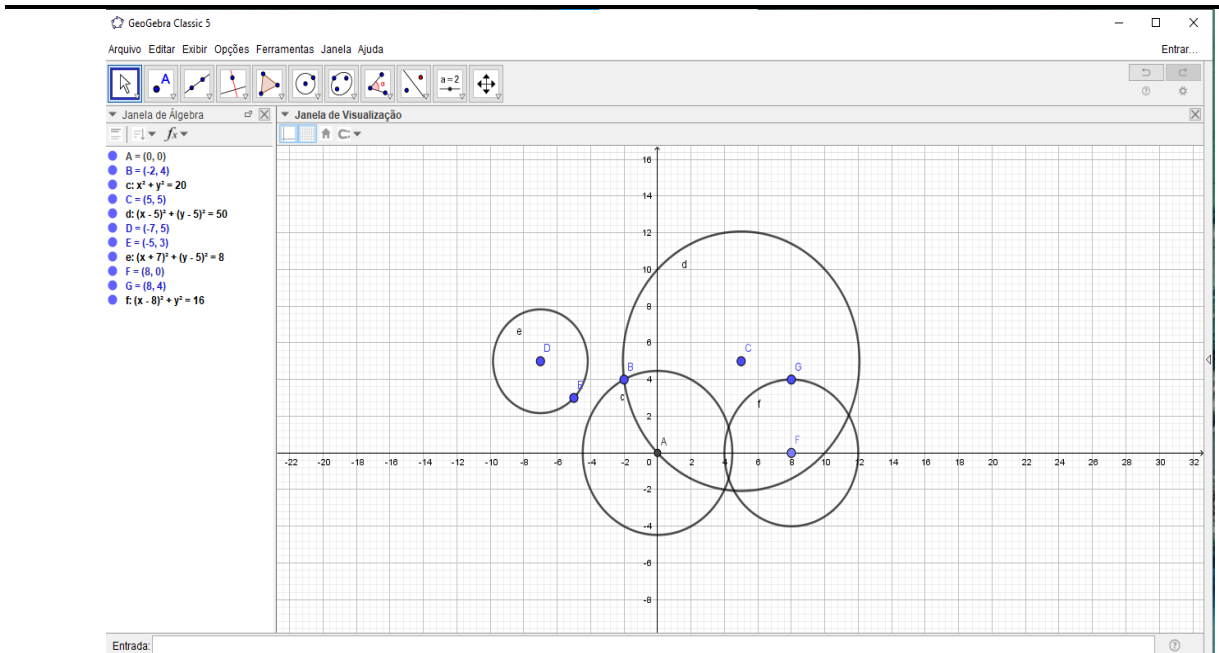
$(x - a)^2 + (y - b)^2 = r^2$ demonstrando com auxílio da simulação utilizando o teorema de Pitágoras. Serão identificadas as coordenadas do centro da circunferência e o raio evidenciando o que essas informações implicam na equação.



3) Para questão 3, o professor com auxílio do GeoGebra utilizando a ferramenta círculo dados centro e um de seus pontos plotará diferentes circunferências, visualizando com os alunos na janela de álgebra a resposta do software, nesse momento deverá ficar claro que as coordenadas do centro e a medida do raio da circunferência interferem na equação. Também serão evidenciados quando o centro da circunferência coincide com a origem dos eixos e como fica a representação algébrica da equação nesse caso.



Projeto de Pesquisa:
Ensino Exploratório de Matemática na Educação Básica
Financiamento:
Conselho Nacional de Desenvolvimento Científico e
Tecnológico - CNPq



5. Avaliação (20 minutos)

A avaliação será processual formativa e concomitante, considerando a interação, comunicação, comprometimento dos grupos, discussões com o professor durante todo o desenvolvimento das aulas e anotações realizadas. Assim, o arquivo da simulação construída pelos grupos e todas as anotações realizadas durante a tarefa, bem como no momento da sistematização servirão de elementos de análise pelo professor.